


電気の通り道

な  
ま  
え

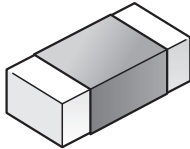
/12だい

1 電気を通すものをしらべました。

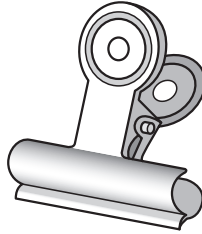
① 電気を通すものに○，電気を通さないものに×をつけましょう。




アルミニウムはく



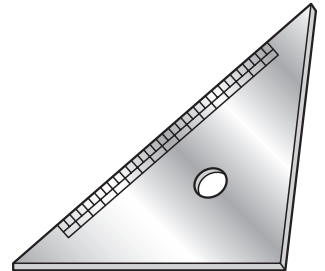
けしゴム



クリップ(鉄)



コップ(ガラス)



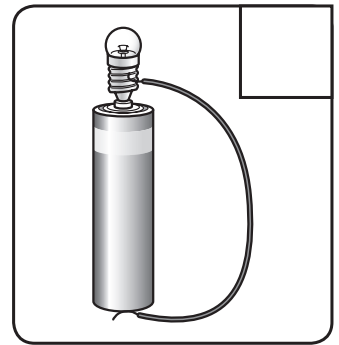
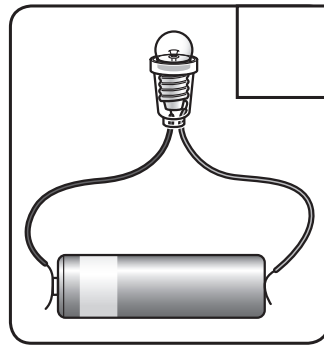
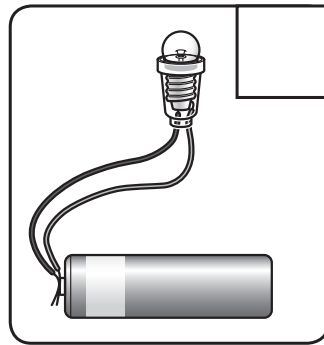
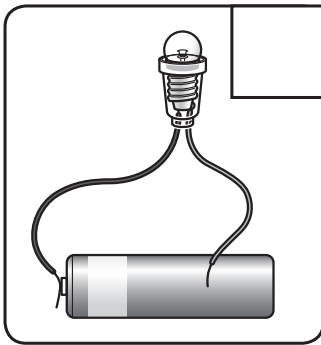
じょうぎ(プラスチック)

② 電気を通すものは，何でできていますか。

( )

2 豆電球まめでんきゅうにあかりをつけます。

① 豆電球にあかりがつくつなぎ方に○，あかりがつかないつなぎ方に×をつけましょう。



② 電気の通り道について，つぎの文の( )にあうことばを書きましょう。

- かん電池につないだ豆電球にあかりがついているとき，電気の通り道は，1つの( )になっています。  
この電気の通り道のことを( )といいます。

答え

1 ① 左から○ × ○ × × ② 金ぞく

2 ① 左から× × ○ ○ ② わ 回路