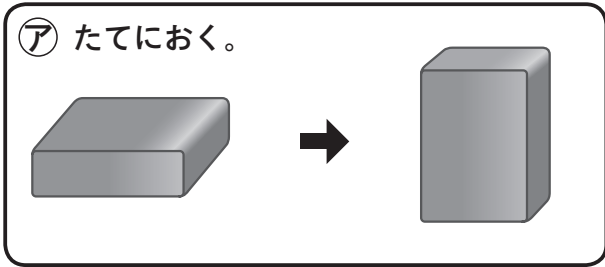


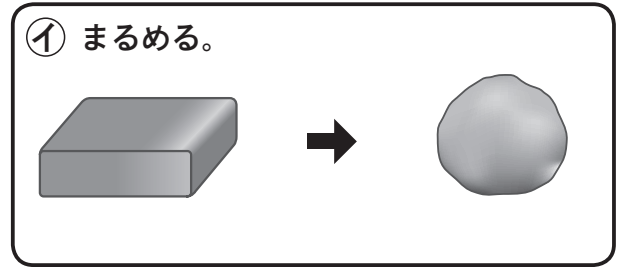
<h1>ものと重さ</h1>	な ま え	/6だい
----------------	-------------	------

**1** ねん土のおき方や形をかえたときの重さをしらべます。

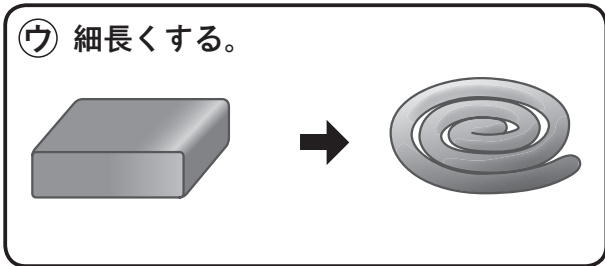
☆ おき方や形をかえると、ねん土の重さはかわりますか。かわりませんか。



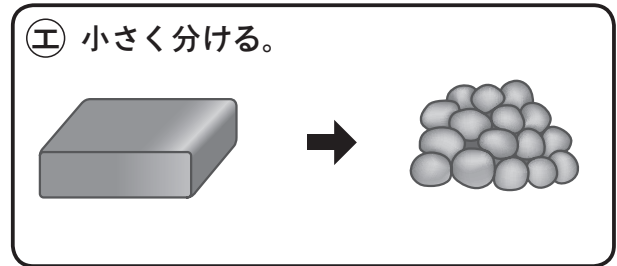
( )



( )




( )



( )

**2** 同じたいせきの玉の重さをくらべます。



しらべるもの	重さ
金ぞくの玉	115g
木の玉	12g
ガラスの玉	35g
プラスチックの玉	15g

- ① 重さをくらべたけっかで、正しいもの1つに○をつけましょう。
- ( ) 金ぞくの玉がいちばん重い。
- ( ) 木の玉とガラスの玉の重さは同じ。
- ( ) プラスチックの玉がいちばん軽い。

② 同じたいせきのものの重さは、どれも同じですか。 ( )

答え

- 1** ☆ ア かわらない。 イ かわらない。 ウ かわらない。 エ かわらない。
- 2** ① 一番上に○ ② ちがう。